

Hvað táknað hver tölustafur?

$$4281 = \underline{\hspace{2cm}} + \underline{\hspace{2cm}} + \underline{\hspace{2cm}} + \underline{\hspace{2cm}}$$

$$1539 = \underline{\hspace{2cm}} + \underline{\hspace{2cm}} + \underline{\hspace{2cm}} + \underline{\hspace{2cm}}$$

$$9876 = \underline{\hspace{2cm}} + \underline{\hspace{2cm}} + \underline{\hspace{2cm}} + \underline{\hspace{2cm}}$$

$$1234 = \underline{\hspace{2cm}} + \underline{\hspace{2cm}} + \underline{\hspace{2cm}} + \underline{\hspace{2cm}}$$

$$5737 = \underline{\hspace{2cm}} + \underline{\hspace{2cm}} + \underline{\hspace{2cm}} + \underline{\hspace{2cm}}$$

Reiknaðu og skráðu svörin

$$3000 + 400 + 80 + 7 = \underline{\hspace{2cm}}$$

$$9000 + 200 + 40 + 3 = \underline{\hspace{2cm}}$$

$$7000 + 500 + 30 + 8 = \underline{\hspace{2cm}}$$

$$5000 + 800 + 70 + 1 = \underline{\hspace{2cm}}$$



Reiknaðu og skráðu svörin

$$5000 + 4000 = \underline{\hspace{2cm}}$$

$$8000 + 2000 = \underline{\hspace{2cm}}$$

$$3000 + 2000 = \underline{\hspace{2cm}}$$

$$1000 + 8000 = \underline{\hspace{2cm}}$$

$$4000 + 7000 = \underline{\hspace{2cm}}$$



Reiknaðu og skráðu svörin

$$8000 + 1400 = \underline{\hspace{2cm}}$$

$$7300 + 2200 = \underline{\hspace{2cm}}$$

$$1700 + 3200 = \underline{\hspace{2cm}}$$

$$5600 + 4400 = \underline{\hspace{2cm}}$$

$$4600 + 4200 = \underline{\hspace{2cm}}$$



Addi og mamma hans fóru á matsölustað. Þau voru með 5000 kr. í vasanum. Þau keyptu hamborgara fyrir 1380 kr. og franskar fyrir 320 kr. eplasafa fyrir 147 kr.

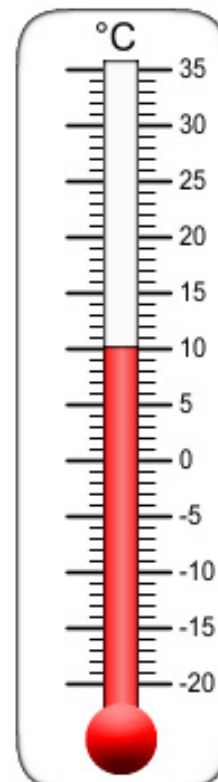
Hvað kostaði maturinn mikið ? _____

Hvað eiga þau afgangs ? _____ 5000

-

Litla hafmeyjan var að synda í sjónum. Sjávarhitinn hjá henni var 17° en þegar hún hitti Eirík fjörinni var hitinn á landi 25°

Hvað munaði miklum á hitanum í hafinu og á landi ? _____




1. Hvað er langt á milli hvalsins og neðsta hluta krossfisksins?

2. Hvað er langt á milli blöðrufisksins og neðsta hluta krabbans?

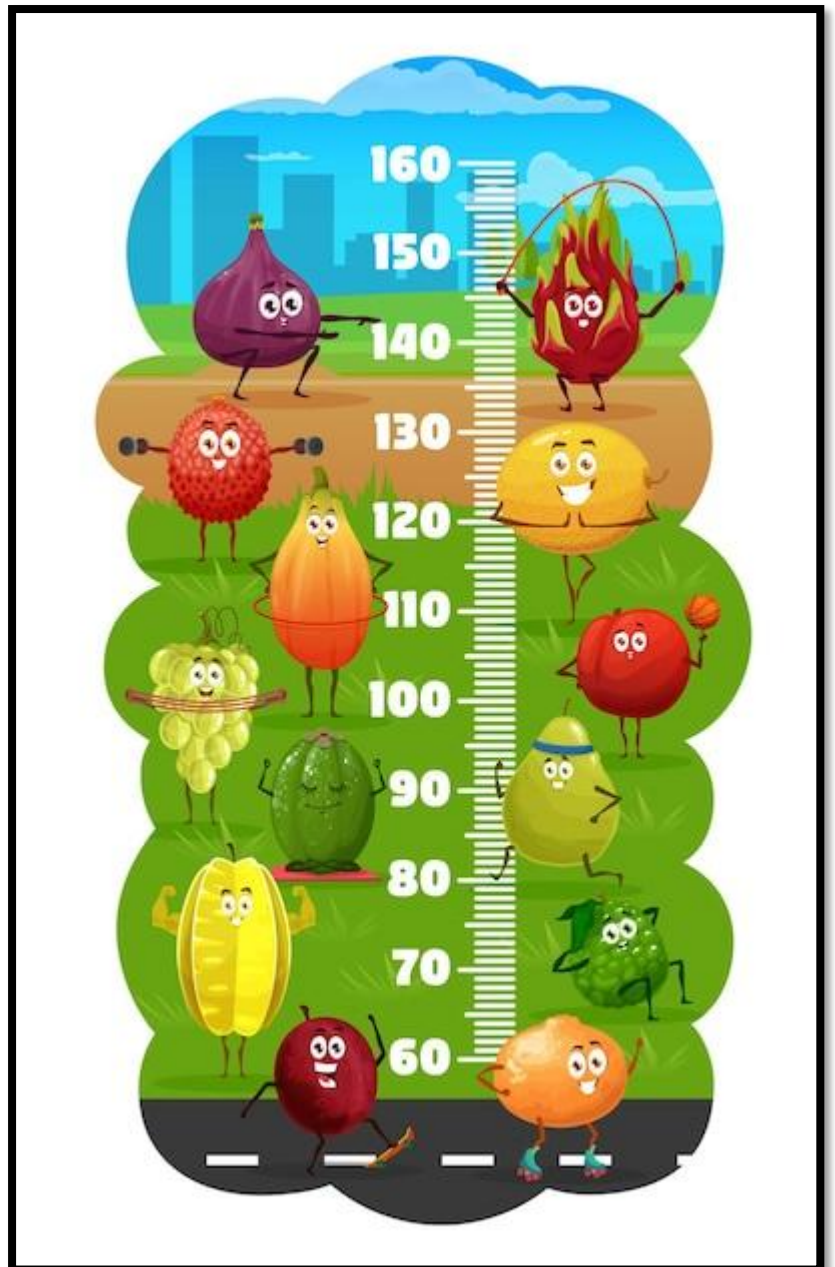
3. Hvað er langt frá botninum og að efsta hluta skjaldbökunnar?

4. Hvað er langt á milli efsta hlutans á þaranaum og efsta hlutans á kolkrabbanum?



Hvað er bilið á milli
neðsta hluta
vínberjaklasans
og efsta hluta
rauðlauksins?

Í hvaða hæð er efsti
hluti perunnar?



$0 \times 8 = \underline{\hspace{2cm}}$ $5 \times 5 = \underline{\hspace{2cm}}$ $1 \times 7 = \underline{\hspace{2cm}}$

$2 \times 9 = \underline{\hspace{2cm}}$ $4 \times 5 = \underline{\hspace{2cm}}$ $8 \times 2 = \underline{\hspace{2cm}}$