









Hvað kostar  _____

Hvað kostar  _____

Hvað kostar  _____

	+		=	5
	+		=	2
	+		=	6
	+		=	?

Hvað er svarið ? _____

Hvað kostar  _____

Hvað kostar  _____

Hvað kostar  _____

Hvað kostar  _____

$$\text{candy cane} + \text{house} = 10$$

$$\text{penguin} + \text{penguin} = 14$$

$$\text{penguin} - \text{house} = 6$$

$$\text{candy cane} + \text{reindeer} = 14$$


$$\text{reindeer} + \text{penguin} + \text{house} = ?$$

Hvað er svarið ? _____

								
1	2	3	4	5	6	7	8	9

 +  = 

 +  = 

 +  = 

 +  = 




 +  = 

 +  = 

 +  = 

 +  = 

 +  = 

 +  = 

 +  = 

 +  = 



Hvað kostar



Hvað kostar



Hvað kostar



$$\text{snowman} + \text{snowman} = 6$$

$$\text{tree} + \text{snowman} = 10$$

$$\text{tree} - \text{house} = 3$$

$$\text{house} + \text{snowman} = ?$$

Hvað er svarið ? _____

Hvað kostar



Hvað kostar



Hvað kostar





+



=

8



-



=

3



+



=

13



-



=

?

Hvað er svarið ? _____